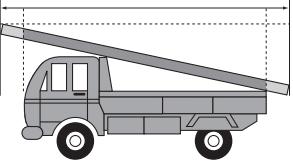
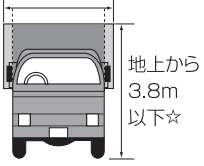
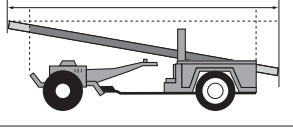
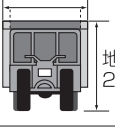










問題集「項目別ポイント1000」訂正表

内容をつぎのとおり訂正します。訂正箇所（ページ等）を確認のうえ、ご使用ください。

ポイント集 訂正内容										
P.5	<p>「乗車・積載の制限」の表の一部をつぎのとおり訂正してください。</p> <table border="1"> <thead> <tr> <th>車の種類</th> <th colspan="2">積載物の大きさと積載の方法</th> </tr> </thead> <tbody> <tr> <td>大型自動車 中型自動車 準中型自動車 普通自動車 大型特殊自動車</td> <td> <p>自動車の長さ×1.2以下 (長さ+前後1/10以下)</p>  </td> <td> <p>自動車の幅×1.2以下 (幅+左右1/10以下)</p>  <p>地上から 3.8m 以下☆</p> <p>*三輪の普通自動車と総排気量660cc以下の普通自動車の高さは、2.5m以下</p> </td> </tr> <tr> <td>小型特殊自動車</td> <td> <p>自動車の長さ×1.2以下 (長さ+前後1/10以下)</p>  </td> <td> <p>自動車の幅×1.2以下 (幅+左右1/10以下)</p>  <p>地上から 2.0m以下</p> </td> </tr> </tbody> </table>	車の種類	積載物の大きさと積載の方法		大型自動車 中型自動車 準中型自動車 普通自動車 大型特殊自動車	<p>自動車の長さ×1.2以下 (長さ+前後1/10以下)</p> 	<p>自動車の幅×1.2以下 (幅+左右1/10以下)</p>  <p>地上から 3.8m 以下☆</p> <p>*三輪の普通自動車と総排気量660cc以下の普通自動車の高さは、2.5m以下</p>	小型特殊自動車	<p>自動車の長さ×1.2以下 (長さ+前後1/10以下)</p> 	<p>自動車の幅×1.2以下 (幅+左右1/10以下)</p>  <p>地上から 2.0m以下</p>
車の種類	積載物の大きさと積載の方法									
大型自動車 中型自動車 準中型自動車 普通自動車 大型特殊自動車	<p>自動車の長さ×1.2以下 (長さ+前後1/10以下)</p> 	<p>自動車の幅×1.2以下 (幅+左右1/10以下)</p>  <p>地上から 3.8m 以下☆</p> <p>*三輪の普通自動車と総排気量660cc以下の普通自動車の高さは、2.5m以下</p>								
小型特殊自動車	<p>自動車の長さ×1.2以下 (長さ+前後1/10以下)</p> 	<p>自動車の幅×1.2以下 (幅+左右1/10以下)</p>  <p>地上から 2.0m以下</p>								

問題文 訂正内容	
P.31	<p>19問をつぎのとおり訂正してください。</p> <p>仮免許で練習するときには、その自動車を運転することができる第一種免許を受けて3年以上の人か、第二種免許を受けている21歳以上の人を同乗させなければならない。</p>
P.49	<p>21問をつぎのとおり訂正してください。</p> <p>普通貨物自動車に荷物を積む場合は、車体の左右それぞれにその車の幅の10分の1まではみ出してもよい。</p> <p>24問をつぎのとおり訂正してください。</p> <p>貨物自動車に積める荷物の長さは、その車の長さの1.2倍までである。</p>
P.55	<p>9問をつぎのとおり訂正してください。</p> <p>貨物自動車に積める荷物の長さは、車の長さとその1.2倍を加えた長さまでである。</p>

解答と解説 訂正内容	
P.49	<p>19問の解答を×に変更してください。</p> <p>21問の解答を○に変更し、解説をつぎのとおり訂正してください。</p> <p>▶二輪車以外の車ではみ出せるのは、幅が左右それぞれ10分の1以内（長さも前後それぞれ10分の1以内）。</p>
P.55	<p>9問の解説をつぎのとおり訂正してください。</p> <p>▶長さは、車長の1.2倍まで。車長にその1.2倍を加えると2.2倍の長さになる。</p>